

第一問 国際児童基金（UNICEF）の取り組みについて紹介してある【資料A】と【資料B】を参考にし、あとの1~4の問いに答えなさい。

【資料A】

「アイシャの1日」 エチオピア・13歳の少女



アイシャが水汲みに費やす時間は毎日8時間—

朝早くから夕方近くまで、炎天下の砂漠を一日中歩いて家族のために水を汲むアイシャ。それでも手に入るのは、1人あたりわずか5リットル未満の茶色い水だけです。近くに井戸ができれば、アイシャの人生は変わります。

世界中の女の子や女性たちが水汲みに費やす
1日当たりの時間の総計
=2億時間

アイシャの1日 ~水を得るために~

- 6:30 水汲みヘラクダとともに1人で出発
- 10:40 水汲み場へ到着
洗顔・洗濯をし、水汲み
- 11:20 家へ向かって出発
- 13:10 休憩
- 15:45 家に戻る
- 16:20 家族と食事
- 17:40 兄から勉強（よみかた）を教わる
- 18:30 お茶
- 21:30 就寝

〔資料B〕では、〔資料A〕のアイシャが暮らしているエチオピアについて説明しています。

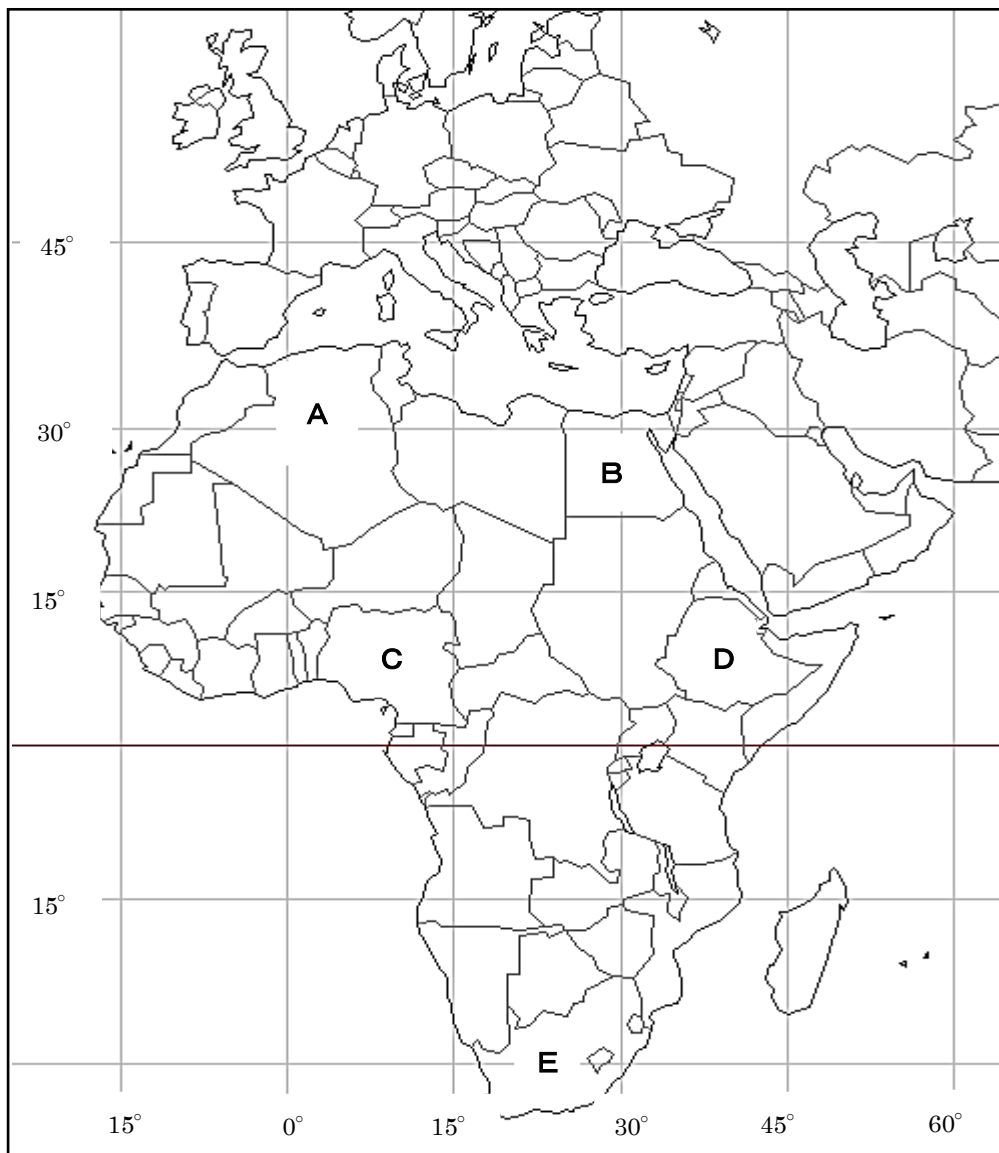
〔資料B〕

エチオピアは北緯3度から15度、東経33度から48度に位置し、北はエリトリア、東はジブチ、ソマリア、南はケニア、西はスーダン、南スーダンに囲まれた内陸部で、総面積は日本の国土面積の約3倍です。

気候は小雨季（2月～5月）、大雨季（6月～9月）、乾季（10月～1月）に分かれます。気温は、首都のアディスアベバでは、平均15～25℃前後ですが、大雨季にはとても寒くなります。南西部やソマリ州では40℃近くになります。

外務省ホームページより作成

1 エチオピアはどこか、下の地図中の記号A～Eから1つ選び、記号で答えなさい。



CraftMAP より作成

- 2 エチオピアの首都アディスアベバ（東経 39 度）と東京（東経 135 度）との**時差は何時間**か答えなさい。（小数点以下は切り捨てること。）また、**時間が進んでいるのはどちらか**答えなさい。
- 3 アフリカの多くの国で見られるような特定の作物や資源を生産し輸出する経済を何といいますか。その**名称**を答えなさい。
- 4 **【資料A】**のアイシャの村に「井戸(給水所)」ができることにより、アイシャの人生はどのように変わることが考えられますか。具体的に例をあげ **70 字以上 100 字以内**で説明しなさい。

第二問 あやかさんは歴史分野の勉強をしていて、教科書にフランス人のピゴーが描いた絵が、
 図1や図2など、何枚か掲載されていることに気づき興味を持ちました。そこでピゴーについて調べてみたところ、彼が描いた図3と図4の絵を見つけました。これらの絵に関するあとの1~4の問いに答えなさい。




図1




図2



図3



図4

1 図1は、政府が国会開設を約束した後に行われた第1回総選挙の投票所の様子を描いています。この国会開設などを要求していた士族から始まった**運動の名称**を答えなさい。

2 図1について、先生は授業の際に「…立会人や警官が間近で投票を監視している上に、投票用紙には記名することになっており、現在のような(①)選挙の原則は認められていません。また左側に立って、投票している人を眺めている大勢の人たちや、女性も投票することが出来ませんでした。…」と解説をしてくれました。(①)に入る**適当な語句**を答え、さらに先生が言うように(下線部のような)投票出来ない人がいたのは何故なのかを、**30字以上60字以内**で説明しなさい。

- 3 図2について、先生は授業の際に「日清戦争前の東アジアの情勢を風刺しています…」と解説をしてくださいました。図中のA・B・C・Dがそれぞれどこの国を描いているかを明確にしなが、ピゴ一が考えていた当時の東アジアの情勢を40字以上60字以内で答えなさい。
- 4 図3・4は条約改正に向けて、日本政府が洋館を建て、そこに西洋人などを集めて舞踏会を開催したりした、欧化政策といわれるものを風刺したものですが、その洋館の名称を答えなさい。またピゴ一はこの政策に反対していましたが、図3・4の中でその立場が読み取れるところを、70字以上100字以内で答えなさい。